

Урок 31. ДИАГРАМИ

1. Напишете какво представляват диаграмите.

.....

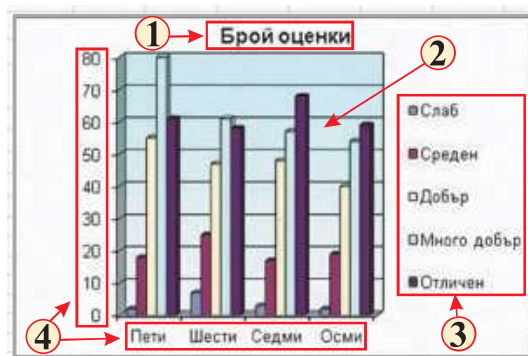
2. Напишете основните части на една диаграма.

1)

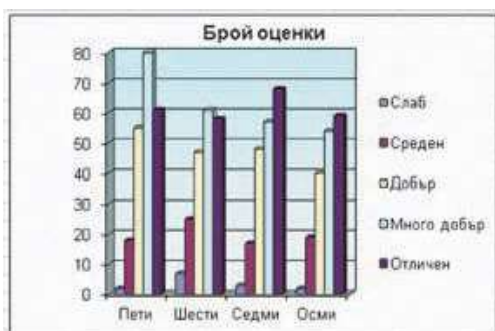
2)

3)

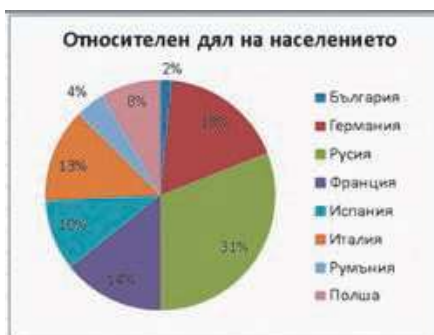
4)



3. Напишете имената на посочените диаграми.



.....



.....